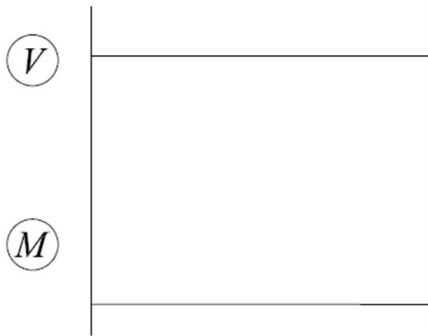
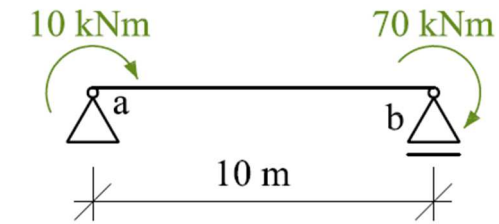
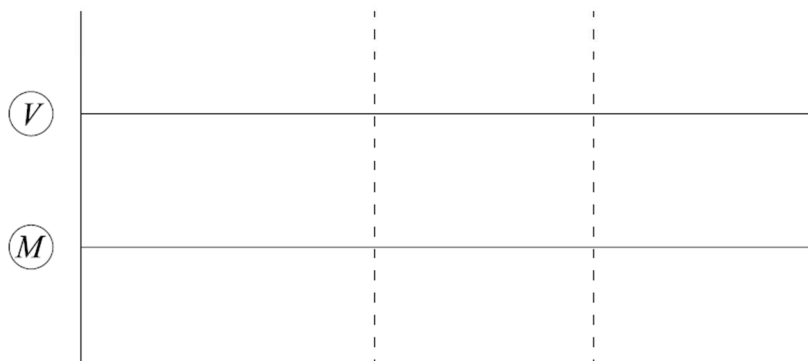
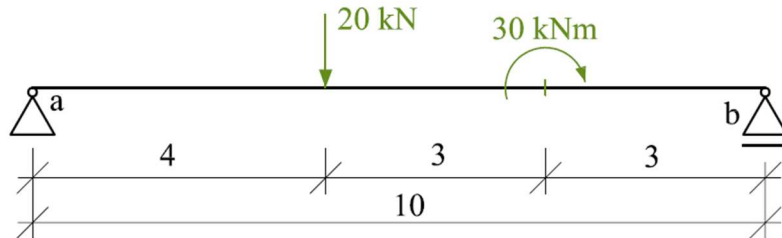


Příklad 1

Vykreslete průběhy vnitřních sil.

**Příklad 2**

Vykreslete průběhy vnitřních sil.



Pozn. Můžete vykreslit průběhy vnitřních sil na příkladech, které jste měly k procvičování výpočtu reakcí (BDA015_03_cviceni_dalsi_prikklady.pdf)