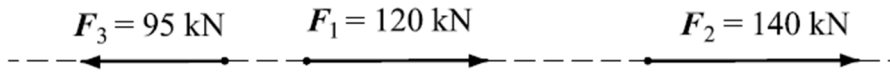
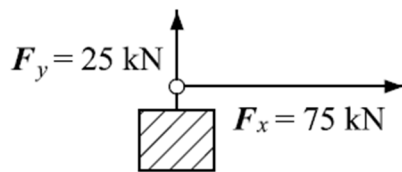


Příklad 1

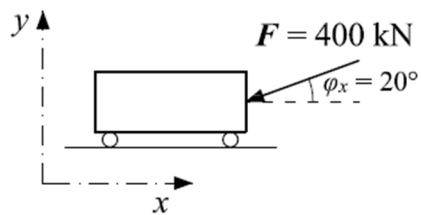
Určete výslednici dané soustavy sil.

**Příklad 2**

Určete výslednici dané soustavy sil a úhly, které svírá výslednice s pravoúhlými složkami.

**Příklad 3**

Rozložte sílu F do dvou kolmých směrů rovnoběžných s osami x a y .

**Příklad 4**

Určete výslednici daného svazku sil.

